



**PREFEITURA MUNICIPAL DE VITÓRIA
SECRETARIA MUNICIPAL DE EDUCAÇÃO
EMEF ELZIRA VIVÁQUA DOS SANTOS**

ALUNO (A):

TURMA: 1º ANO

DATA: ___ / ___ / 20

COMPONENTE CURRICULAR: NÚCLEO COMUM

ATENÇÃO:

* PERMITA SER ORIENTADO, FAÇA ESSA TAREFA COM UM ADULTO.

* AS RESPOSTAS **DEVEM SER FEITAS EM SEU CADERNO** (NÃO É NECESSÁRIO COPIAR AS PERGUNTAS), MAS IDENTIFIQUE COM NÚMEROS E LETRAS PARA NÃO SE PERDER.

TEXTO INFORMATIVO

1- LEIA COM A FAMÍLIA:

EM VÁRIAS CIDADES BRASILEIRAS, BEM COMO NO MUNICÍPIO DE VITÓRIA, EXISTE UM SISTEMA DE BICICLETAS COMPARTILHADAS (BIKE VITÓRIA). ESTA MODALIDADE ATRAVÉS DA TECNOLOGIA VISA OFERECER MEIO DE TRANSPORTE, DIVERSÃO SUSTENTÁVEL E CONTRIBUI PARA A SAÚDE COMO PRÁTICA DE EXERCÍCIOS FÍSICOS.

FONTE: PESQUISA E ADAPTAÇÃO (WWW.BIKEVITORIA.COM.BR)

2- OBSERVE AS ESTAÇÕES DE BICICLETAS:

ESTAÇÃO A



ESTAÇÃO B



MARQUE UM "X" NO QUADRADINHO, QUAL ESTAÇÃO TEM MAIS BICICLETAS?

ESTAÇÃO A

ESTAÇÃO B

3- ESCREVA O NOME DO MEIO DE TRANSPORTE QUE AS CRIANÇAS ESTÃO USANDO:



4- NO PASSEIO AS CRIANÇAS ENCONTRARAM AS PLACAS ABAIXO. O QUE ELAS QUEREM DIZER?






5- A BICICLETA É UM MEIO DE TRANSPORTE:

TERRESTRE


AQUÁTICO

AÉREO


6- COMPLETE A CRUZADINHA.



7- DESENHE MEIOS DE TRANSPORTE QUE VOCÊ CONHECE.



8- OBSERVE O DESENHO E ESCREVA.




A) QUANTAS CRIANÇAS?

B) QUANTAS BICICLETAS?

C) CADA CRIANÇA QUER ANDAR EM UMA BICICLETA. OBSERVE NOVAMENTE A FIGURA E VEJA SE ISSO É POSSÍVEL?

9- UMA BICICLETA TEM 2 RODAS.



A) QUANTAS RODAS TÊM 4 BICICLETAS?

10) OBA, AGORA TEREMOS UM MOMENTO DE VIAGEM VIRTUAL POR MEIO DE 3 LINKS INCRÍVEIS E QUE TÊM TUDO A VER COM NOSSA ATIVIDADE, APROVEITEM.

O DIÁRIO DE MIKA – BICICLETA SEM RODINHA

<https://youtu.be/qgBxcbCHook>

CLIFE BACANA SOBRE BICICLETAS

<https://youtu.be/T822sT4rG7o>

MEU PAI VAI ME BUSCAR NA ESCOLA – JUNIÃO

https://www.instagram.com/tv/CBQ8veVntNK/?utm_source=ig_web_copy_link



**VOCÊ É MUITO ESPECIAL!!!
SAUDADES!!!**